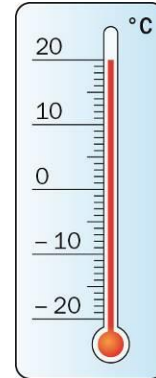


UN PEU D'ORDRE

Activité 1 : Le thermomètre

Le tableau suivant donne la température moyenne de quelques villes du monde au mois de décembre.

Ville	Température moyenne au mois de décembre
Berlin	-1 °C
Rome	8 °C
Moscou	-17 °C
Nairobi	18 °C
Montréal	-7 °C
Stockholm	0 °C



Utilise la méthode de ton choix afin de comparer les températures des villes ci-dessus

Activité 2 : Des personnages historiques

Les grands personnages suivants ont tous vécu entre le premier siècle avant J.-C. et le premier siècle après J.-C.

- Cléopâtre (- 69 ; - 30)
- Auguste (- 63 ; +14)
- Néron (+37 ; +68)
- Sénèque (- 4; +65)
- Ptolémée XI (- 104 ; - 80)
- Jules César (- 101 ; - 44)

Dans chaque cas, indiquer si les deux personnages auraient pu se connaître.

- Auguste et Jules César.**
- Néron et Sénèque.**
- Néron et Ptolémée XI.**
- Cléopâtre et Jules César.**

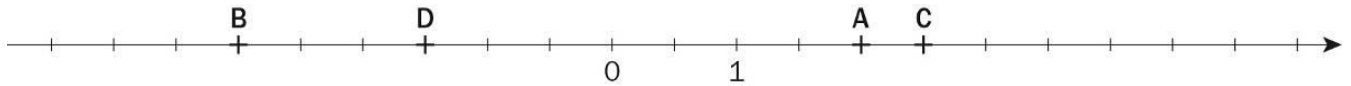
BILAN :

En quoi consiste la comparaison de nombres relatifs ?

Quelle(s) méthode(s) peut-on utiliser pour comparer des nombres relatifs ?

Activité 3 : Droite graduée

Lire les abscisses des points A, B, C et D sur la droite graduée suivante.

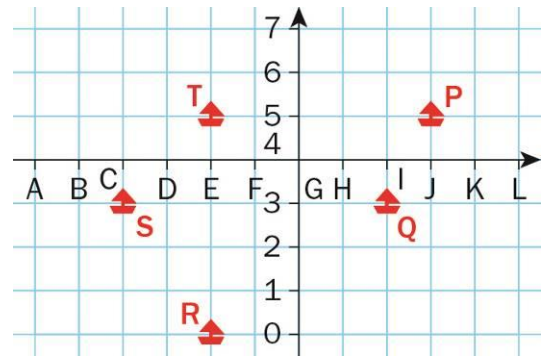


Activité 4 : La bataille navale

Kevin et Zoé jouent à la bataille navale.

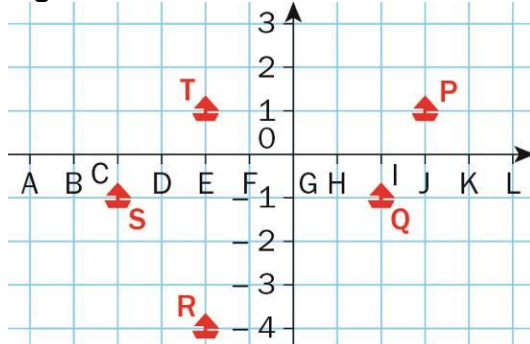
Voici la grille de Zoé.

Kevin annonce : « (J ; 5) », Zoé répond : « Coulé ! ».
Kevin annonce : « (F ; 3) », Zoé répond : « À l'eau ! ».

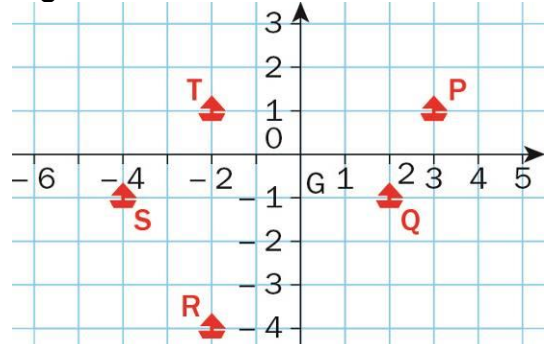


1. Quelles sont les positions des autres navires ?

2. Donner les positions des navires dans la grille de bataille navale ci-dessous.



3. Donner les positions des navires dans la grille de bataille navale ci-dessous.



BILAN

Sur une droite graduée :

Dans le plan :