





## Exercices de dessin en perspective 1/3

Ci-dessous, mettre au propre les 5 tracés des volumes de base en vous aidant des vidéos présentes sur le site en y apportant le plus grand soin.

Cube :	Parallélépipède :	Cylindre :
Prisme :	Pyramide :	Cône :

Pièce 1 : 	Pièce 2 : 
	

Noms : \_\_\_\_\_



## Exercices de dessin en perspective 2/3

Ci-dessous, mettre au propre les tracés des volumes de base en y apportant le plus grand soin.

Pièce 3 :



Pièce 4 :




Pièce 5 :



Pièce 6 :

Dessinez la  
vue de gauche



Noms : \_\_\_\_\_

## Exercices de dessin en perspective 3/3

Ci-dessous, mettre au propre les tracés des volumes de base en y apportant le plus grand soin.

Pièce 7 :




Pièce 8 :



Pièce 9 :



Pièce 10 :



Noms : \_\_\_\_\_